

Compétences

suivre des consignes
réaliser des constructions géométriques

A	VA	NA
A	VA	NA

1°) Trace un segment $AB = 9 \text{ cm}$.

2°) Trace un segment $CD = 13 \text{ cm}$. Place un point E à 6 cm de C. $CE = \dots\dots\dots$; $ED = \dots\dots\dots$

3°) Trace un segment $FG = 12 \text{ cm}$. Place un point H au milieu de FG. $FH = \dots\dots\dots$; $HG = \dots\dots\dots$

4°) Trace un segment $IJ = 4 \text{ cm}$. Trace un segment KL mesurant le double de IJ.


5°) Trace un segment $MN = 10 \text{ cm}$. Trace un segment OP mesurant la moitié de MN.

6°) Explique ce que c'est qu'un segment.

.....
.....
.....


Le segment

Un segment est une ligne tracée à la règle.
Il a deux limites.
Son nom s'écrit avec des lettres majuscules
d'imprimerie.
On n'écrit jamais sur un segment.




Le segment

Un segment est une ligne tracée à la règle.
Il a deux limites.
Son nom s'écrit avec des lettres majuscules
d'imprimerie.
On n'écrit jamais sur un segment.




Le segment

Un segment est une ligne tracée à la règle.
Il a deux limites.
Son nom s'écrit avec des lettres majuscules
d'imprimerie.
On n'écrit jamais sur un segment.




Le segment

Un segment est une ligne tracée à la règle.
Il a deux limites.
Son nom s'écrit avec des lettres majuscules
d'imprimerie.
On n'écrit jamais sur un segment.




Le segment

Un segment est une ligne tracée à la règle.
Il a deux limites.
Son nom s'écrit avec des lettres majuscules
d'imprimerie.
On n'écrit jamais sur un segment.




Le segment

Un segment est une ligne tracée à la règle.
Il a deux limites.
Son nom s'écrit avec des lettres majuscules
d'imprimerie.
On n'écrit jamais sur un segment.



Le segment

Un segment est une ligne tracée à la règle.
Il a deux limites.
Son nom s'écrit avec des lettres majuscules
d'imprimerie.
On n'écrit jamais sur un segment.



Le segment

Un segment est une ligne tracée à la règle.
Il a deux limites.
Son nom s'écrit avec des lettres majuscules
d'imprimerie.
On n'écrit jamais sur un segment.

