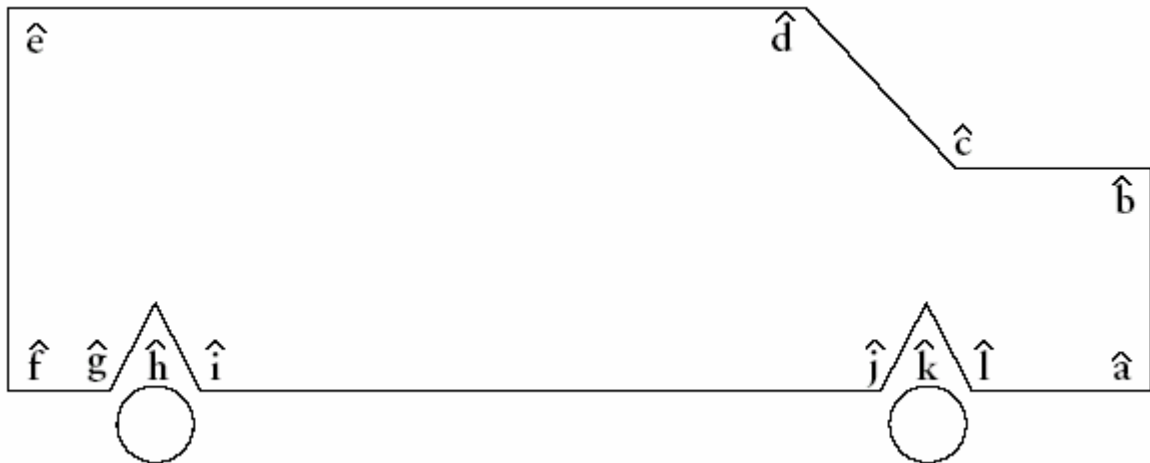


Compétence repérer les angles



1. Décalque l'angle c, puis retrouve, parmi les autres angles de la voiture, celui qui lui est égal.

Réponse :

2. Observe bien les autres angles de la voiture et forme trois groupes d'angles égaux.

- Groupe 1 :
- Groupe 2 :
- Groupe 3 :

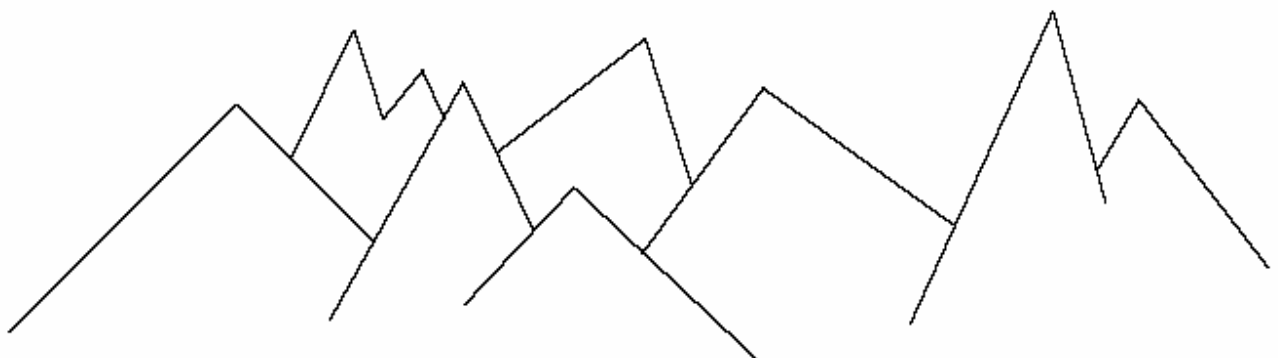
3. Remplace, sous chaque figure, la légende qui convient :

angle droit – angle aigu – angle obtus.


[Ox) et [Oy) sont les côtés de l'angle x



4. Retrouve les angles droits et colorie-les ; sers-toi de ton équerre.



5. Retrouve et trace la droite qui partage chaque angle en deux parties égales ; utilise du papier calque.



6. Marque :

- en rouge les angles aigus ;
- en vert les angles droits ;
- en bleu les angles obtus.

