


Compétence

lire l'heure en utilisant le mot »moins «


A

VA


NA




Il est 4 h 55 min.  
 Il manque \_\_\_\_\_ minutes avant  
 qu'il soit 5 heures.  
 On dit qu'il est \_\_\_\_\_




Il est 4 h 40 min ou 16 h 40 min.  
 Il manque \_\_\_\_\_ minutes avant  
 qu'il soit 5 heures.  
 On dit qu'il est \_\_\_\_\_




Il est 4 h 50 min ou 16 h 50 min.  
 Il manque \_\_\_\_\_ minutes avant  
 qu'il soit 5 heures.  
 On dit qu'il est \_\_\_\_\_



Il est 4 h 35 min ou 16 h 35 min.  
 Il manque \_\_\_\_\_ minutes avant  
 qu'il soit 5 heures.  
 On dit qu'il est \_\_\_\_\_



Il est 4 h 45 min ou 16 h 45 min.  
 Il manque \_\_\_\_\_ minutes avant  
 qu'il soit 5 heures.  
 On dit qu'il est \_\_\_\_\_



Il est 4 h 30 min ou 16 h 30 min.