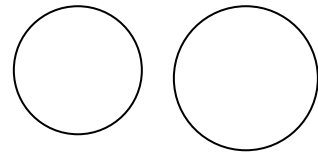
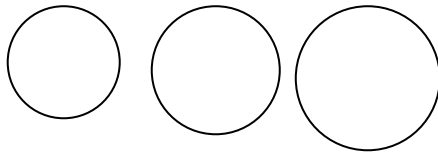
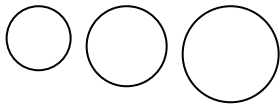


NOM .....




DATE .....

MESURES

Ecris la valeur des différentes pièces de notre monnaie.



Ecris la valeur des différents billets de notre monnaie.



Comment payes-tu avec le moins de pièces possibles les achats suivants :

Une baguette à 0,80 €

Un livre à 10,30 €

Une télévision à 565 €


**Problème**

Maman a vu dans une boutique une machine à laver le linge coûtant 650 €. Elle veut comparer les prix et se rend dans une grande surface où elle trouve la-même à 625 €.

Où maman va-t-elle acheter la machine à laver ? Justifie ta réponse.

.....

.....

Quelle est la différence de prix entre les deux machines à laver ?

.....

.....

Opération
-----------