

NOM

DATE

MESURES

Compétence



tracer et mesurer des segments de longueur indiquée

A

VA

NA

1. Ecris dans la case qui convient : une droite – un segment

	
--	---

2. Explique la différence entre une droite et un segment ?

.....

.....

3. Trace les segments suivants : AB = 6 cm ; CD = 2 cm 5 mm ; EF = 7 cm 2 mm ; GH = 1cm 1mm ; IJ = 5 mm.


4. Complète l'égalité suivante : 1 cm = mm.

5. Complète les égalités suivantes :

3 cm = mm ; 5 cm = mm ; 1 cm 5 mm = mm ;

8 cm 1 mm = mm ; 6 cm 9 mm = mm ; 10 cm 2 mm = mm ;

6. Trouve le nom de chaque segment.



AB est plus grand que CD mais plus petit que EF.