




Calcule le poids des éléphants puis celui des rhinocéros et cherche la différence de poids entre les deux familles.




Mr Éléphant = 6453 kg




Mme Éléphant = 4396 kg




Bébé Éléphant = 238 kg



Mr rhinocéros = 3476 kg



Mme rhinocéros = 2703 kg



Bébé rhinocéros = 149 kg

La famille éléphant pèse : .....

La famille rhinocéros pèse : .....

La ville de Kida est située à 845 m d'altitude. La rivière Tome, longue de 450 km, traverse cette paisible cité. Il y a un aéroport à 24 km de la ville et une superbe gare. Dans la ville de Kida, il y a exactement 23 786 habitants. Parmi eux, on trouve 8 417 hommes et 9 092 femmes. Le reste de la population est constitué d'enfants.

Combien y a-t-il d'enfants à Kida ?

.....  
 .....  
 .....

opérations