



Compétence faire preuve de logique A VA NA




1 Un coq est sur le toit d'une maison. Si la maison est orientée vers le sud-ouest et qu'un vent violent de 95km/h vient du nord-ouest, de quel côté tombera l'œuf pondu ?

.....




2 Avant de traverser une passerelle, M. Dupont lit l'écriteau suivant : cette passerelle supporte 100 Kg maximum. M. Dupont s'engage sur la passerelle qui cède sous son poids. Pourquoi ?

.....




3 La récréation est annoncée par une série de 3 sonneries de 7 secondes entrecoupées de blancs de 3 secondes. Indiquez en minutes et secondes la longueur totale de la séquence annonçant la récréation.

.....



4 Combien ai-je d'animaux domestiques, sachant que tous, sauf deux sont des chiens, tous sauf deux sont des chats, et tous sauf deux sont des perroquets ? (J'en ai plus de deux)

.....



5 Nous avons tous les deux autant d'argent. Combien dois-je te donner pour que tu aies exactement 5 euros de plus que moi ?

.....