

Un enfant a rempli 7 sacs de " Smarties " ; il y a le même nombre de "smarties" dans chaque sac ; son petit frère en prend plusieurs dans un sac avant qu'il ne les ferme.

A l'aide d'une balance à plateaux comment peut-il, en deux pesées, retrouver (sans les ouvrir) le sac qui en contient le moins?

.....

En utilisant tous les mots cent, vingt, quatre, deux une fois par nombre, écris en lettres tous les nombres différents possibles.

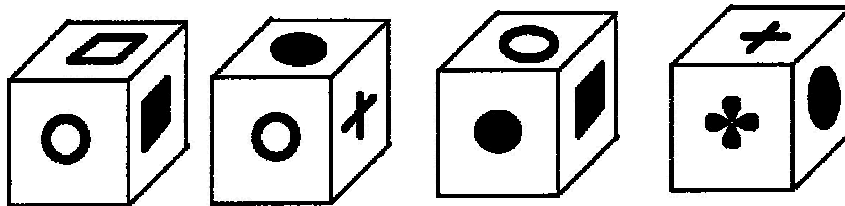


.....



Chacun des dessins suivants figure sur une face d'un cube.
 On voit ci-dessous 4 positions du cube.



Quel est le dessin qui se trouve sur la face opposée au trèfle ?



Bonjour, un papillon s'est posé sur mon oreille, j'ai une fleur derrière moi.



Parmi les 4 images ci-dessous laquelle est celle qui correspond à mon image dans un miroir en face de moi ?

A B C D