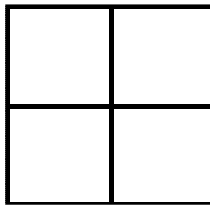



Compétence faire preuve de logique et d'observation A VA NA

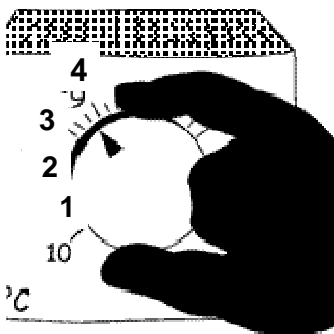
et dans celui-ci, combien y a-t-il de carrés ?



Dans ce carré, il y a cinq carrés



.....




Pour ouvrir un coffre fort, vous devez trouver les trois chiffres du code. Voici les tentatives de quelqu'un qui n'a pas réussi :

- 123 il n'avait aucun chiffre correct,
- 456 il avait un seul chiffre correct bien placé,
- 612 il avait un seul chiffre correct mais mal placé,
- 547 il avait un seul chiffre correct mais mal placé,
- 849 il avait un seul chiffre correct bien placé.

A toi de jouer maintenant!...

Mireille veut placer ses petits camarades du plus grand au plus petit.
 Jean est plus grand que Louis. Louis est plus petit que Gérard et André.
 François est plus grand que Jean mais plus petit que Gérard. Gérard n'est pas le plus grand.



Dans quel ordre les placera-t-elle ?

- 1 :
- 2 :
- 3 :
- 4 :
- 5 :

Dans le calcul du produit posé ci-contre, les chiffres de trois lignes ont été codés par des lettres et les six chiffres du résultat ont été effacés.

Dans le codage utilisé, les dix chiffres correspondent à dix lettres différentes. Effectuez l'opération et codez le mot "BOEUF".

		O	E	U	F
		X		G	E
		8	5	8	8
E	B	I	B	A	
?	?	?	?	?	?

.....