

LES TRANSMISSIONS DE MOUVEMENTS PAR ROTATION

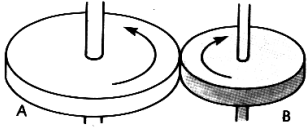
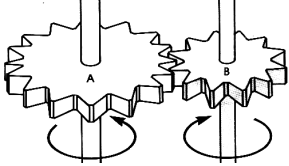
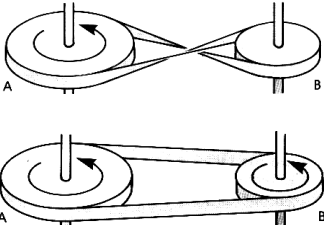
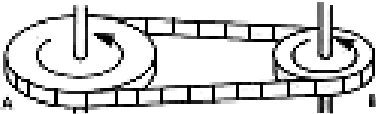

Problème à résoudre :

La roue A tourne. C'est la roue motrice.

Comment transmettre le mouvement de rotation à la roue B ?

De nombreuses solutions peuvent être adoptées.

Expérimente chaque cas et complète le tableau.

Solutions	Schémas	Avantages	Inconvénients	Exemples
Transmission par <u>friction</u>				
Transmission directe par <u>engrenages</u>				
Transmission indirecte par <u>courroie</u>				
Transmission indirecte par <u>chaîne</u>				
Transmission indirecte par <u>câble</u>				
Transmission indirecte par <u>cardan</u>	